


# Hoe lank is lank?

Weet jy hoe lank iets is deur net daarna te kyk?



1. Skatting.

- Watter een dink jy is die **langste**?
- Watter een is die **kortste**?



'n Slaapkamer



'n Bad



'n Motor



'n Bed



'n Venster





'n Stoel

2. Skryf in volgorde van die **langste** tot die **kortste**.

\_\_\_\_\_ , \_\_\_\_\_ , \_\_\_\_\_  
 \_\_\_\_\_ , \_\_\_\_\_ , \_\_\_\_\_

3. Gebruik jou treë om te **meet** hoe lank elkeen van hierdie items in werklikheid is. Skryf jou antwoorde neer.

4. Gebruik 'n stuk tou wat 1 m lank is en meet hoe lank elkeen van hierdie voorwerpe is. Skryf jou antwoorde neer.

|                |  Treë |  Meter |
|----------------|--|---|
| Die kamer is   |  |   |
| Die venster is |  |   |
| Die bed is     |  |   |
| Die motor is   |  |   |
| Die bad is     |  |   |
| Die stoel is   |  |   |

5. Watter een is die **langste**? \_\_\_\_\_

6. Watter een is die **kortste**? \_\_\_\_\_

