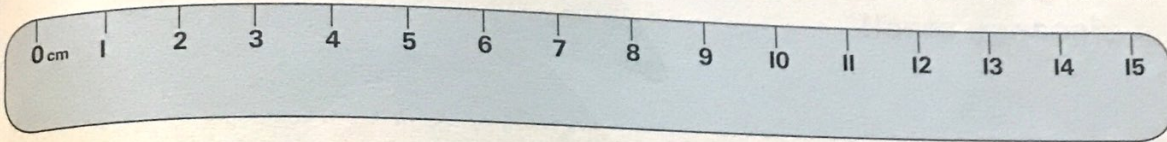








# Hoe kort is kort?

Het jy al ooit 'n liniaal gebruik om iets te meet? Soek 'n potlood, wasgoedpennetjie, seep, tandestokkie, uitveër en sleutel om te meet.



1. Skat hoeveel sentimeter lank elke voorwerp is. Skryf die antwoord in die tabel neer.
2. Meet elke voorwerp met 'n liniaal. Skryf die antwoord neer.

	Skat	Meet		Skat	Meet
					
					
					

3. Watter van jou skattings was dieselfde as dit wat jy gemeet het?

\_\_\_\_\_

4. Wat was jou naaste skatting? \_\_\_\_\_

5. Is enige van die voorwerpe ewe lank? \_\_\_\_\_

6. Skryf die name van die voorwerpe in volgorde van die **kortste** tot die **langste**.

\_\_\_\_\_

\_\_\_\_\_

\_\_\_\_\_

\_\_\_\_\_

\_\_\_\_\_

\_\_\_\_\_

\_\_\_\_\_

